

**Муниципальный этап республиканской олимпиады школьников  
по истории татарского народа и Татарстана 2023–2024 учебный год.  
8 класс**

**Время для работы: 2 часа**

**Максимальное количество баллов: 100**

**Задание 1. Выберите несколько верных ответов из предложенных. 3 балла за правильный ответ. Максимум – 6 баллов.**

1.1. Какие из перечисленных событий относятся к той же половине века, что и появление источника, фрагмент которого приведен?

Всемилоостивейше повелеваем нашему генералу порутчику, правящему должность генерала губернатора казанского и пензенского князю Мещерскому в конце нынешнего года исполнить по учреждениям нашим от 7-го ноября ... года изданным для управления губернии равномерно и в Казанском наместничестве, составя оное из тринадцати уездов и именно: Казанского, Лаишевского, Спасского, Чистопольского, Мамадышского, Арского, Царево-Кокшайского, Чебоксарского, Козьмодемьянского, Ядринского, Цивильского, Тетюшского и Свияжского. В следствие чего пригороды и другие селения по коим названы уезды переименовать городами, а в прочем назначение границ сего наместничества предоставляем на соглашение наших генералов губернаторов или правящих ту должность, о котором, так как о селениях и в них числу душ, кои по удобности от одних отделить, и к другим причислить нужно будет, долженствуют они донести нашему Сенату

- 1) Приезд Николая I в Казань
- 2) Приезд Павла I в Казань
- 3) Приезд Петра I в Казань
- 4) Приезд Александра II в Казань
- 5) Приезд Екатерины II в Казань
- 6) Приезд Александра III в Казань

1.2. Время активной деятельности каких из перечисленных правителей относится к тому же веку, что и создание источника, фрагмент которого приведен?

Сделав с Русскими то, что мы рассказали, и опустошив земли их, Татары вернулись оттуда и направились в Булгар в конце 620 г. Когда жители Булгара услышали о приближении их к ним, они в нескольких местах устроили им засады, выступили против них, встретились с ними и, заманив их до тех пор, пока они зашли за место засад, напали на них с тыла, так что Татары остались в середине; поял их меч со всех сторон, перебито их множество и уцелели из них только немногие. Говорят, что их было до 4000 человек. Отправились они оттуда в Саксин, возвращаясь к своему царю ....., и освободилась от них земля Кипчаков; кто из них спасся, тот вернулся в свою землю... (Историк Ибн Аль-Асир)

- 1) Чингизхан
- 2) Дмитрий Донской
- 3) Узбек хан
- 4) Алмыш
- 5) Всеволод Большое Гнездо
- 6) Владимир Святославич

Ответ:

1.1.	1.2

**Задание 2. Возникновение каких из перечисленных терминов (выражений) в России относится к правлению того же правителя. Максимум – 4 бала.**



- 1) Секуляризация
- 2) Джадидизм
- 3) Табель о рангах
- 4) Жалованная грамота городам
- 5) Духовное управление (собрание)
- 6) Коллегии

Ответ: \_\_\_\_\_

**Задание 3. Установите соответствие между событиями и датами.**

**1 балл за соответствие. Максимум – 5 баллов.**

События	Даты
1) Указ о веротерпимости	А) 1722
2) Указ «О крещении в Казанской и Азовской губерниях магометан»	Б) 1773
3) Издание первого царского Манифеста на татарском языке	В) 1715
4) Указ «О позволении князьям и мурзам пользоваться всеми преимуществами российского дворянства»	Г) 1713
5) Указ Сената «О беспрепятственной торговле Казанских слободских служилых татар»	Д) 1784
	Е) 1763

Ответ:

1.	2.	3.	4.	5.

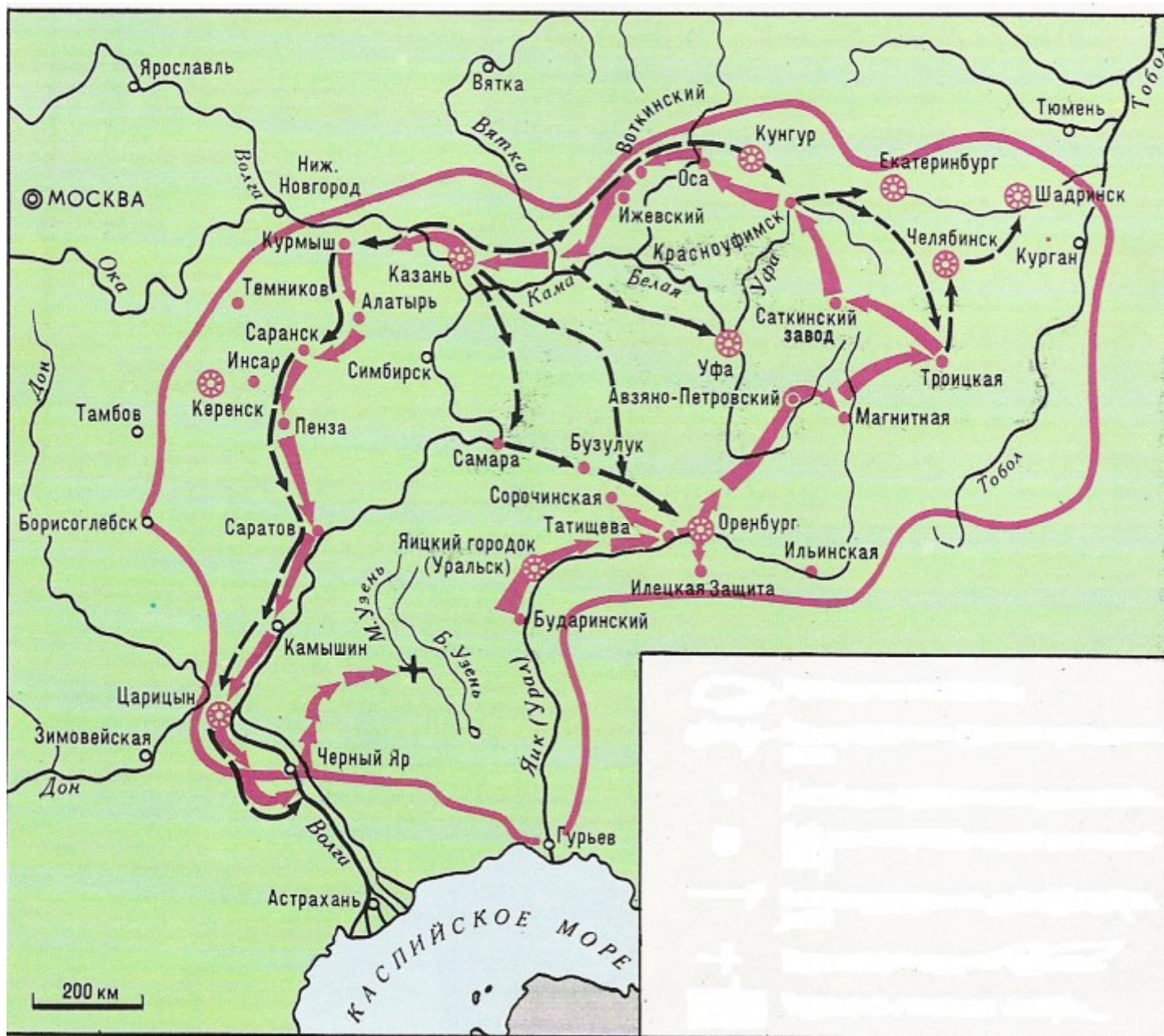
**Задание 4. Расположите в хронологической последовательности перечисленные события – от раннего (1) к позднему (6). Одна ошибка – 3 балла. Максимум – 6 баллов.**

- А. Битва на р. Воже
- Б. Битва на р. Калке
- В. Битва на р. Сити
- Г. Битва на р. Ворскле
- Д. Битва на р. Угре
- Е) Куликовская битва

Ответ:

1.	2.	3.	4.	5.	6.

**Задание 5. Выберите верные суждения. Максимум – 8 баллов.**



1. На схеме обозначен торговый путь от Каспийского моря
2. Данные действия происходили на территории Казанского ханства
3. Г.Державин лично участвовал в данных боевых действиях
4. В российскую историю показанные события вошли в историю как «национально-освободительная война»
5. В российскую историю показанные события вошли в историю как «крестьянская война»
6. П.Шуйский лично участвовал в данных боевых действиях
7. Современником событий, обозначенных на схеме, была Н.Дурова
8. В результате событий, обозначенных на схеме, прекратила существование Казанское ханство
9. О главном участнике этих событий, Василий Перов написал одну из своих картин
10. Современником событий, обозначенных на схеме, был Г.Утыз Имяни

Ответ: \_\_\_\_\_

**Задание 6. Выберите иллюстрации, на которых изображены события, которые произошли в период отраженных на схеме действиях. Максимум – 6 баллов.**

1.



2.



3.



4.



5.



6.



7.



8.



Ответ: \_\_\_\_\_

Задание 7. Выберите портреты участников этих событий. *Максимум – 6 баллов.*

1.



2.



3.



4.



5.



6.









Ответ: \_\_\_\_\_

**Задание 8. Выберите события из истории татарского народа, которые происходили в той же половине века, что и отраженные на схеме боевые действия. Максимум – 9 баллов.**

1. Н.Дурова удостоилась Георгиевского креста
2. Вышел в свет первый в России печатный светский букварь татарского языка «Азбука татарского языка с обстоятельным описанием букв и складов»
3. «Черемисские войны»
4. Указ «О сломании самовольно казанскими татарами построенных мечетей»
5. Издана поэма Мухамедъяра «Тухвай мардан»
6. Основана Казанская Епархия
7. Создан постоянный публичный театр
8. Издание первой провинциальной газеты в России – «Казанские ведомости»

Ответ: \_\_\_\_\_

**Задание 9. Выберите изображения памятников архитектуры и назовите города (на схеме), в которых они расположены. Максимум – 12 баллов.**

<p>1.</p> 	<p>2.</p> 
<p>3.</p> 	<p>4.</p> 
<p>5.</p> 	<p>6.</p> 

№	1.	2.	3.	4.	5.	6.
Название города (по схеме)						

Ответ: \_\_\_\_\_

**Задание 10. Выберите фрагменты из исторических источников, в которых описаны события боевых действий, отраженных на схеме. Максимум – 6 баллов.**

А) Народ, пригнанный в лагерь, поставлен был на колени перед пушками. Женщины подняли вой. Им объявили прощение. Все закричали: ура! и кинулись к его ставке. Он сидел в креслах, принимая дары казанских татар, приехавших к нему с поклоном. Потом спрашивали: кто желает служить государю Петру Федоровичу? - Охотников нашлось множество.

Б) «Во время то немногие из дворян с воеводским чином сохранили свою репутацию незапятнанной. Кривыми путями шли многие, прямыми – считанные единицы. Нижегородцам было трудно сделать выбор и не промахнуться. Они решили полагаться лишь на свой опыт и искать подходящего кандидата среди окрестных служилых людей, лично им известных».

В) «Въ лето 6885. <...> Того же лета перебежа из Синие Орды за Волгу некоторый царевич именован Арапша, и въсхоте ити ратью к Новугороду к Нижнему. Князь же Дмитрий Костянтинович посла весть къ зятю своему къ князю великому Дмитрею Ивановичю. Князь же великий Дмитрий събравъ воя многы и прииде ратью к Новугороду к Нижнему въ силе тяжце».

Г) «От великого войска от ... Слово наше то – для бога и пророка и для государя и для войска, быть вам заодно. А буде заодно не будете, и вам бы не пенять после. Бог тому свидетель – ничево вам худова не будет, и мы за вас радеем. Да вам бы было ведомо: я, Асан Айбулатов сын, при ..., и вам бы нам в том поверить, я, Асан, в том вас наговариваю, и буде мне поверите, и вам худобы не будет. Да у всех вас прощаю – за нас богу помолитесь, а от нас вам челобитие.

Д) «И случилось так, что 15 августа, ранним утром, когда собирается торг, некий диакон-тверянин, – прозвище ему Дудко, – повел кобылицу... напоить водой в Волге. Татары же, увидев ее, отняли. Диакон же очень огорчился и стал вопить: «Люди тверские, не выдавайте!» И ударили во все колокола, стали вечем, и восстал город, и сразу же собрался весь народ»

Е) 12 го, на заре, потянулись от села Царицына по Арскому полю, двигая перед собою возы сена и соломы, между коими везли пушки. Они быстро заняли находившиеся близ предместья кирпичные сарай, рошу и загородный дом Кудрявцова, устроили там свои батареи и сбили слабый отряд, охранявший дорогу.

Ж) Все отряды, находившиеся в губерниях Казанской и Оренбургской, пришли в движение и устремлены были против него. Щербатов из Бугульмы, а князь Голицын из Мензелинска поспешили в Казань; Меллин переправился через Волгу, и 19 го выступил из Свяжска; Мансуров из Яицкого городка двинулся к Сызрани; Муфель пошел к Симбирску...

Ответ: \_\_\_\_\_

**Задание 11. Прочитайте текст и выберите верные суждения. Максимум – 8 баллов.**

«Посла же в Казань Ивана Биркина, да с ним властей о совете и о помочи Московского государства. В то же время бывшу в Казани дяку Никонору ..., и мысляше себе на благо совет: тому радовашеся, что Москва за Литвою. Ему же хотяшу в Казани властвовать, тому же Ивану Биркину с ним же советуящу не на благое то дело, но на злое, те же власти приехаша в Нижней и возвестиша их недоброй совет... Придоша же ис Казани с ратными людьми Иван Биркин, да голова Татарской Лукьян ... и бяше с Ъваном не в совете. Иван же, едучи дорогою, многую

пакость делал городам и уездам; и приидоша в Ярославль и в Ярославле многую смуту содеяша: хотяху быти в начальниках. И такую пакость содеяша: едва меж себя бою не сотвориша. Бояре же и стольники и все ратные люди опричь Смольян ево откинуша. Казанские же люди по приказу Никонора ... приидоша до Ярославля и назад поидоша, некоторые помощи не учиниша, лише многую пакость земле подеаше и идучи назад. Немногие же Казанцы останася: голова Лукьян ..., да с ним двадцать человек князей и мурз, да дворян тритцать человек, да голова стрелецкой Посник Неелов, да с ним сто человек стрельцов. И быша под Москвою до взятия Московского и приидоша в Казань, многие беды и напасти от Никонора претерпеша: Лукьяна ..., Посника Неелова едва с тюрьме не умориша... На Москве же все людие поцеловаше кресть и послаша властей и дворян во все города приводити х крестному целованию. Во всех же городах с радостию целоваху кресть. Придоша же в Арзамас. В Арзамасе же в те поры бывшу вору, Никонору ..., со всею Казанскою ратью, и начаша приводить ко кресту. Тако же Никонор хотяше по прежнему воровати, не нача креста целовати, а говорил посланником, что «без Казанского совета креста целовати не хочу». Ратные же люди и все Понизовые люди Казанского государства и града Арзамаса не послуша ево и начаша целовати кресть. Никонор же с советники своими поиде в Казань на спех, хотяше Казань смутити. Казанцы же, слышавше про государя царя и великого князя Михаила ... всеа Русии и про Никонорово воровство, и встретиша Никонора в Свяжском и отказаша ему, что «в Казань тебе ехати не пошто». В Свяжском же ево поимаша и приведоша ево к Москве. С Москвы же ево послаша в ...; там и скончася».

1. В тексте упомянуты чины служилых людей при русских царях.
2. Событие, о котором идёт в речь в приведённом фрагменте источника, произошло в 1609 году.
3. В тексте упоминается лицо высшего духовного звания Русской православной церкви.
4. В тексте упомянут исторический деятель, связанный с освобождением Москвы от поляков
5. В тексте упоминается родственник Лжедмитрия II.
6. Вид исторического источника, фрагмент которого приведён, – летопись.
7. Автор отмечает, что все Казанцы поддержали Никонора
8. События, описанные в тексте, происходили параллельно с существованием «тушинского лагеря»
9. В тексте осуждася Казанцы за промедление в действиях.
10. Дьяк Никонор не стал целовать крест, тем самым не принял сторону князя Михаила

Ответ: \_\_\_\_\_

**Задание 12. Выберите изображения, связанные с периодом истории России, к которому относится приведенный фрагмент текста. Максимум – 6 баллов.**

1.		2.	
3.		4.	





5.



6.



Ответ: \_\_\_\_\_

**Задание 13. Выберите схему, на которой обозначены походы, связанные с упомянутыми в тексте событиями. Максимум – 6 баллов.**

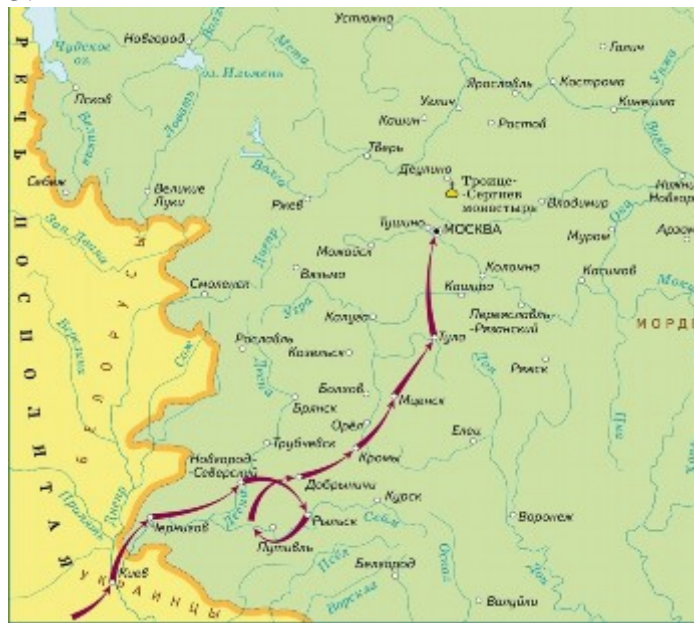
1.



2.



3.



4.



Ответ:

**Задание 14.** Перед вами перечень событий, произошедших в правление трёх правителей. Назовите этих правителей, занесите данную информацию в таблицу. Под именами правителей поставьте номера событий, произошедших в их правление. По 1 баллу за каждого правильно определённого правителя. По 1 баллу за каждое верно соотнесенное событие. При неверно определенном правителе события, указанные в данной группе не оцениваются. *Максимум – 9 баллов.*

- 1) завоевание Волжской Булгарии
- 2) мирный договор с Василием III на условиях выплаты дани «по уставу древних времен»
- 3) официальное принятие Волжской Булгарией ислама
- 4) прибытие посольства багдадского халифа Аль-Муктадира
- 5) заканчивается московский протекторат, длившийся более тридцати лет
- 6) походы на Рязань и Владимир

Ответ:

Правитель			
Событие			

**Задание 15.** Ответьте на вопросы, связанными с важными событиями в истории татарского народа 2023 года. *Максимум – 6 баллов.*

15.1. 245 лет назад родился известный педагог, просветитель, ученый. Происходил из казанского татарского рода, представители которого выступали в трех поколениях преподавателями татарского языка в Казани. Преподавал в первой Казанской мужской гимназии, Казанском университете. Он первый из татар удостоен звания адъюнкта университета. Назовите его имя.

Ответ: \_\_\_\_\_

15.2. 145 лет назад родился один из лидеров татарского национального движения, государственный деятель Турции, тюрколог, юрист. Учился на юридическом факультете Парижского университета. Депутат II и III Государственной думы от Казанской губернии. На открытии национального парламента в Казани был избран председателем Миллэт Меджлиси и национального правительства – Милли Идаре, что явилось пиком его политической деятельности в России. Являлся депутатом Национального собрания Турции. Профессор юридического факультета Стамбульского университета. Назовите его имя.

Ответ: \_\_\_\_\_